

Refração Sísmica Camada Inclinada

Vamos ver agora as equações de tempo de percurso para o caso de uma camada única com interface inclinada. Antes, porém, vamos recordar o conceito de velocidade aparente (a que se mede no gráfico *tempo x distância*) para camada plana.

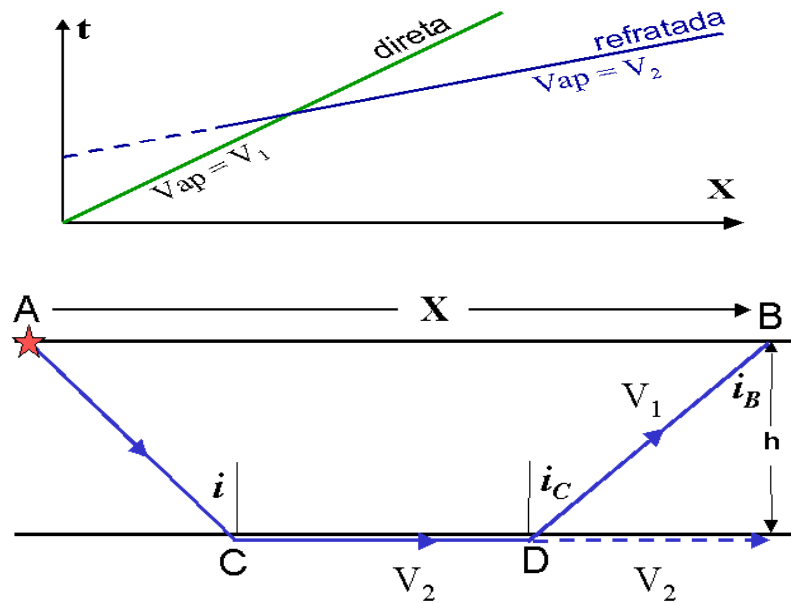


Fig. 1

A Lei de Snell no ponto de refração "D" fornece o ângulo crítico: $\sin i_c = V_1/V_2$. A velocidade aparente no ponto "B" é dada por $V_{ap} = V_1/\sin i_B$. Como a interface é paralela à superfície, $i_B = i_c$. Daí se vê que V_{ap} (medida do gráfico *t x X*) = V_2 (vel. real na camada refratora). Agora vamos ver o que acontece quando a camada refratora é inclinada.

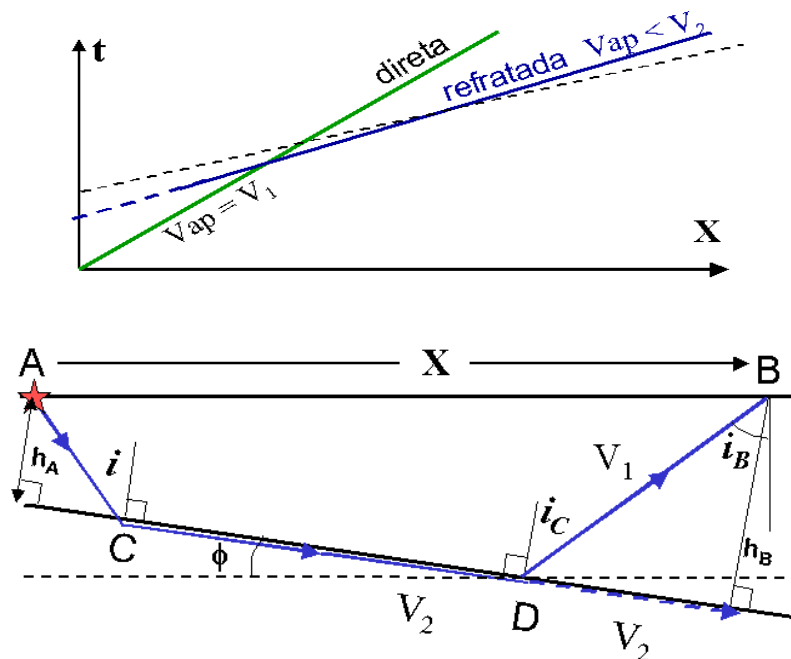


Figura 2

O ângulo crítico no ponto de refração "D" continua sendo dado pela lei de Snell:

$$\text{sen } i_c = V_1/V_2$$

Note que o ângulo crítico i_c é medido entre o raio sísmico e a perpendicular à interface (que não é mais a vertical!). Porém, quando o refrator tem uma inclinação de ϕ (o ângulo de inclinação, ou "mergulho" da camada, é medido com relação à horizontal), a onda refratada chega na superfície com um ângulo i_B diferente de i_c !

Exercícios

1) Veja qual a relação entre os ângulos i_B , i_c e ϕ . Mostre que a velocidade aparente medida no ponto "B" será menor do que V_2 .

O tempo da onda refratada no percurso "ACDB" é dado por

$$t = \frac{X}{V_{ap}} + \frac{2h_A \cos i_c}{V_1} \quad [\text{eq. 1}]$$

Note que no caso de camada inclinada a definição da espessura h_A é pela perpendicular à camada, e não na vertical! Na equação acima, a V_{ap} é dada por

$$V_{ap} = \frac{V_1}{\text{sen}(i_c + \phi)} \quad V_{ap} < V_2 \quad [\text{eq. 2}]$$

Esta velocidade aparente é a que se mede quando a refração está descendo, ou seja, no sentido "para baixo". Pode-se entender que a velocidade aparente seja menor do que a velocidade real V_2 da seguinte maneira: se a camada fosse horizontal, o tempo seria o da reta tracejada na Fig. 2. Quando o refrator está inclinado, à medida que a distância de registro X aumenta, mais a onda refratada tem que descer e maior será o atraso na camada 1 para voltar à superfície. Por isso, os tempos de percurso vão ficando cada vez maiores do que a linha tracejada (tempos mais atrasados, e portanto menor a velocidade aparente). **Este conceito é importante, procure entendê-lo bem !!!!!**

2) Deduza, por analogia, a equação da onda refratada no sentido inverso, de B para A, i.e., subindo pelo refrator.

Em refração sísmica é sempre importante registrar tiros diretos e reversos para se poder determinar as inclinações das camadas. Fazendo-se-se dois tiros (um direto de A-> B e outro reverso de B-> A), medem-se as velocidades aparentes nos dois sentidos. A velocidade maior será a vel. aparente de "subida", e a menor a de "descida". Sabendo-se a velocidade da camada 1 (pelo tiro direto), pode-se determinar a ângulo crítico i_c , e o mergulho da camada, :

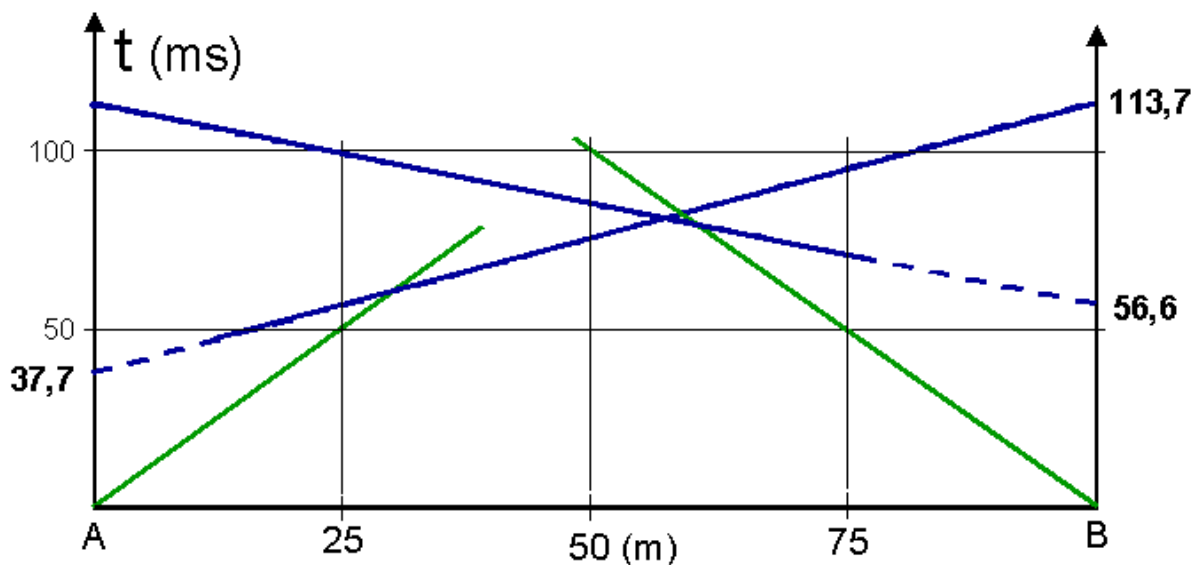
$$i_c = \frac{1}{2} \left\{ \text{sen}^{-1} \left(\frac{V_1}{V_{desc}} \right) + \text{sen}^{-1} \left(\frac{V_1}{V_{sub}} \right) \right\} \quad [\text{eqs. 3,4}]$$

$$\phi = \frac{1}{2} \left\{ \text{sen}^{-1} \left(\frac{V_1}{V_{desc}} \right) - \text{sen}^{-1} \left(\frac{V_1}{V_{sub}} \right) \right\}$$

3) Deduza as equações acima, a partir da eq. 2 e da eq. deduzida no exercício 2.

4) O gráfico abaixo mostra os tempos de percurso de uma aquisição de refração rasa entre dois tiros A e B distantes 100m um do outro. Interprete os dados.

- determine a velocidade do solo (confira se é a mesma nos dois tiros!)
- determine as duas velocidades aparentes
- use as equações 3 e 4 para determinar o ângulo crítico (i_c) e o mergulho da camada (Φ). Diga para que lado a camada mergulha.
- tendo o valor de i_c , determine o valor da velocidade do refrator.
- use o termo constante da equação 1 para determinar as espessuras da camada 1 sob o ponto A e sob o ponto B.
- Sabendo-se as duas espessuras, h_A e h_B , e a distância $AB=100m$, confirme o valor do mergulho calculando-o geometricamente.



5) A velocidade real do refrator (V_2) é aproximadamente a média entre as velocidades aparentes, para inclinações pequenas. Suponha um caso em que $V_1 = 1000m/s$ (solo bem firme e compactado) e $V_2=2000m/s$ (rocha sedimentar dura).

a) Para uma inclinação de 20° , calcule as duas velocidades aparentes. Estime aproximadamente a velocidade do refrator (V_2) por dois métodos:

1) média das velocidades aparentes, e

2) média dos inversos: $1/V_2 = (1/V_{sub} + 1/V_{desc})/2$. Determine o erro percentual em relação ao valor verdadeiro de $V_2= 2000m/s$

b) Repita para uma inclinação de 10° .